

ご当地検定の経済版

考えながら学ぶ「奈良県の経済100選」

～奈良県の経済・産業から、身近な暮らしまで、あなたの経済センスをチェック～

はじめに

奈良県の経済・産業や身近な暮らしのことをどれだけご存知ですか？ 私たちは正確な情報やデータ、知識等を身につけないまま、つい感覚的な認識・判断をしてしまいがちです。

個人の生活レベルに密着した感覚はとても大切ですが、それを確かなものにするためには、私たちが暮らし、働く「奈良県」のことを可能な限り客観的に理解しておく必要があります。

そこで今回、最近流行のご当地検定の経済版として“考えながら学ぶ「奈良県の経済100選」”を企画しました。このテストは、決して暗記力の良さを試すものではなく、奈良県経済に対する日頃の問題意識や情報感度の腕試しの機会を提供するものです。

解答要領

- ・制限時間は90分です【電卓の利用可】。
- ・選択肢の中から最適なものを選んで下さい。
- ・特に断りのない限り、奈良県のことについて解答して下さい。

解答の途中でわからない設問があっても、決して諦めないで下さい。奈良県や他府県の現状をロジカルに考えていくと、4つの選択肢を半分に絞り込むことが可能です。そこで更にあなたのセンスと感ピュータを働かせて1つに絞り込んで下さい。

問題の内容は、中級レベル（日頃から経済の動きに関心の高い方向き）です。合格点の目安は「偉人」80点、「鉄人」70点、「達人」60点、「常識人」50点です。公務員の方や県内で活動されているビジネスマンの方は、鉄人を目指して下さい。

解答は5月号に掲載します。意味の不明な用語や自信のない解答は、図書館やインターネット等で調べて下さい。特に、情報収集・分析に慣れておられる方は、解答掲載を待たずにご自分でデータを探されることをお勧めします。事前に採点をご希望の方は、2007年4月末までに11頁の解答用紙送付要領に基づき当センター宛に解答用紙を送付して下さい。

【制限時間：90分】

*解答用紙は12頁にあります。適宜、コピーして利用して下さい。

1 地理・人口等（40問×1点）

Q-1. 総面積は3,691km²であるが、国土全体の何パーセントを占めるか。【参考：全国40位】

ア)0.78% イ)0.98% ウ)1.08% エ)1.38%

Q-2. 総面積に占める可住地面積割合は21.0%であるが、可住地面積の全国順位（広い順）は何位か。【参考：シェアは国全体の可住地の0.70%】

ア)47位 イ)43位 ウ)40位 エ)37位

Q-3. 住居地域、工業地域、工業専用地域の面積は日本全体の何パーセントか。

住居地域・工業地域面積等の全国シェア

【2004年3月末現在】 (%)

	住居地域	工業地域	工業専用地域
滋賀県	1.32	2.47	1.59
京都府	1.75	2.31	0.69
奈良県	①	②	③

*資料：国土交通省「都市計画年報」

①ア)0.83 イ)1.13 ウ)1.53 エ)1.83

②ア)0.48 イ)0.78 ウ)1.08 エ)1.38

③ア)0.10 イ)0.30 ウ)0.60 エ)0.80

Q-4. 五條市の形を表しているのはどれか。

ア)



イ)



ウ)



エ)



Q-5. 近畿地方最高峰〔標高 1,695m〕の山岳名はどれか。

- ア)八剣山 イ)釈迦ヶ岳
ウ)山上ヶ岳 エ)大台ヶ原山

Q-6. 市町村別人口密度 (人/km²) が最も高い市町村は (①) [4,293.5] で、最も低いのは (②) [2.9] である。

- ①ア)香芝市 イ)王寺町
 ウ)橿原市 エ)大和高田市
②ア)川上村 イ)十津川村
 ウ)上北山村 エ)天川村

Q-7. 2007年1月22日現在、全国には1,814市町村があり、1999年3月末〔3,232市町村〕からの減少率は43.9%となっている。一方、奈良県の減少率は (①) %で、2007年2月末時点の市町村数は、(②) となっている。

- ①ア)10.6 イ)17.0 ウ)21.3 エ)25.5
②ア)12市15町12村 イ)12市15町15村
 ウ)12市10町13村 エ)15市11町11村

Q-8. 面積が最小の市町村は (①) である。(②) の面積は県内最大で、県総面積の18.2%を占め、①の約 (③) 倍ある。

- ①ア)三宅町 イ)安堵町
 ウ)川西町 エ)上牧町
②ア)五條市 イ)奈良市
 ウ)上北山村 エ)十津川村
③ア)105 イ)125 ウ)165 エ)195

■Q-9~Q-21の設問は、総務省「国勢調査」に基づくものである。

Q-9. 2005年10月1日現在の人口は約 (①) 千人で、2000年と比較して (②) %の減少となっている。1955年以降はじめてのマイナスで、増減率は全国33位である。

【参考：全国の人口増加率 0.7%】

- ①ア)1,311 イ)1,421 ウ)1,451 エ)1,531
②ア)0.5 イ)1.5 ウ)2.5 エ)3.5

Q-10. 2000年比で2005年に人口増加があった市町村は3市3町で、そのうち3%以上増加したのは香芝市〔11.8%〕、()〔4.3%〕、上牧町〔3.9%〕である。ちなみに奈良市の人口は1.3%減で、最大の減少率は川上村の20.1%減であった。

- ア)生駒市 イ)王寺町 ウ)広陵町 エ)葛城市

Q-11. 2005年の市町村別人口は、奈良市が370,102人〔県人口の26.0%〕で最も多く、2番目に多いのは (①) 市の124,728人〔同8.8%〕である。最小は (②) 村の743人〔同0.1%〕である。

- ①ア)香芝 イ)橿原 ウ)生駒 エ)大和郡山
②ア)下北山 イ)黒滝 ウ)上北山 エ)野迫川

Q-12. 2005年の15歳未満人口は県人口の13.9%で、65歳以上人口は県人口の () %である。

- ア)14.9 イ)16.9 ウ)19.9 エ)22.9

Q-13. 2005年の一般世帯数は約 () 千世帯で、2000年に比べ3.3%増加している。2人世帯が全体の27.9%と最も多く、一般世帯の1世帯当たり人員は、2.78人〔全国は2.55人〕である。

- ア)461 イ)501 ウ)551 エ)591

Q-14. 2005年の世帯構造を家族類型別で見ると、核家族世帯は一般世帯の64.9%で、このうち夫婦のみの世帯は同21.5%、夫婦と子供から成る世帯は同 (①) %である。また、単独世帯は同 (②) %である。

- ①ア)22.0 イ)28.0 ウ)35.0 エ)45.0
②ア)15.9 イ)20.9 ウ)25.9 エ)30.9

Q-15. 2005年現在、65歳以上親族のいる一般世帯は189,915世帯 (一般世帯の37.9%)で、このうち「一人暮らし高齢者」(65歳以上の単独世帯)は約 () 千世帯、高齢夫婦世帯 (夫が65歳以上、妻が60歳以上の夫婦)は約53千世帯である。

- ア)17 イ)37 ウ)57 エ)87

特集

Q-16. 2005年現在、住宅に住む一般世帯の持ち家率は（ ）%〔2000年比1.5ポイント上昇〕である。【参考：全国 62.1%】

ア)64.6 イ)72.6 ウ)82.6 エ)89.6

Q-17. 2005年の労働力率（15歳以上人口に占める労働力人口の割合）は男性が（ ① ）%、女性が（ ② ）%である。

【参考：全国の男性 75.3%、同女性 48.8%】

*労働力人口（就業者及び完全失業者）

①ア)65.0 イ)71.0 ウ)74.0 エ)77.0

②ア)37.9 イ)41.9 ウ)44.9 エ)47.9

Q-18. 2005年の就業者数は男性が377,887人、女性が256,662人で、2000年に比べ男性は（ ① ）、女性は1.8%増となっている。また、65歳以上の就業者数は就業者全体の（ ② ）%で、2000年に比べ12.8%増加している。

①ア)2.4%増 イ)0.4%減

ウ)3.4%減 エ)6.4%減

②ア)15.4 イ)11.4 ウ)8.4 エ)5.4

Q-19. 2005年現在、夫・妻共に就業者である世帯は、夫婦のいる一般世帯344,104世帯の（ ）%を占めており、2000年に比べ0.8%増加している。

ア)25.3 イ)30.3 ウ)36.3 エ)42.3

Q-20. 県内在住の外国人就業者数は（ ）人で、2000年に比べ8.2%増加している。

ア)2,002 イ)4,502 ウ)7,502 エ)10,502

Q-21. 2005年の男女別人口は、女子100人に対して男子（ ）人である。

ア)85.8 イ)90.8 ウ)95.8 エ)98.8

Q-22. 2005年の合計特殊出生率は（ ）と、東京都に次いで2番目に低い。

ア)1.12 イ)1.22 ウ)1.32 エ)1.42

Q-23. 各都道府県の人口に対する「他府県からの転入者」の割合と「他府県への転出者」の割合を差し引きしたものを移動率というが、総務省「住民基本台帳人口移動報告年報」によると、2005年に奈良県は（ ① ）となっており、全国で（ ② ）となっている。

①ア)−0.35の転出超過 イ)−0.15の転出超過
ウ)0.15の転入超過 エ)0.35の転入超過

②ア)10番目の人口流出県 イ)5番目の人口流出県
ウ)5番目の人口流入県 エ)10番目の人口流入県

Q-24. 2005年の転出先の住所地としては、大阪府が全体の（ ① ）%で最も多く、次いで京都府、兵庫県、（ ② ）と続く。

①ア)48.0 イ)42.0 ウ)33.0 エ)26.0

②ア)滋賀県 イ)愛知県

ウ)三重県 エ)東京都

Q-25. 2000年の国勢調査によると、昼夜間人口比率は（ ① ）%と、埼玉県に次いで2番目に低い。また、県民の約（ ② ）人に1人が県外へ通勤・通学している。

【参考：昼間流出人口比率 全国2位】

①ア)74.6 イ)87.6 ウ)91.3 エ)94.3

②ア)10 イ)8 ウ)6 エ)4

Q-26. 厚生労働省「都道府県別生命表」によると、2000年の奈良県男性の平均寿命は78.36歳で全国（ ）位〔全国77.71歳〕、女性の平均寿命は84.80歳で第21位〔全国84.62歳〕である。

ア)3 イ)13 ウ)23 エ)33

●コーヒーブレイク（「奈良県の経済100選」の対象外）

C-1. 「興福寺五重塔」の高さと「谷瀬の吊り橋」の高さを比べると、どちらが高いか？

C-2. 奈良公園の鹿は国の天然記念物となっているが、約何頭生息しているか？

【解答は11頁に記載しています。以下同様】

2 経済・産業関連 (40問×1点)

Q-27. 内閣府経済社会総合研究所「県民経済計算」によると、2003年度県内総生産(名目)は3兆7,247億円で、県別シェアは(①)%である。その増減率は(②)【参考:全県計0.4%増】で、県内総支出でみた実質経済成長率は0.4%である。

- ①ア)0.98 イ)0.87 ウ)0.75 エ)0.64
 ②ア)1.5%減 イ)0.3%減
 ウ)0.4%増 エ)1.4%増

Q-28. 2003年度の県民総所得4兆7,696億円のうち、県外からの所得(純)は(①)%を占める。また、1人当たり県民所得は2,641千円で全国26位であるが、東京を100とした1人当たり県民所得は、奈良県が(②)、滋賀県が75.1、京都府が66.5、大阪府が71.3となっている。

- ①ア)10.9 イ)15.9 ウ)20.9 エ)25.9
 ②ア)61.9 イ)65.9 ウ)70.9 エ)74.9

Q-29. 2004年の農業産出額は546億円であるが、全国シェアはいくらか。

- ア)0.61% イ)1.01%
 ウ)1.51% エ)1.81%

Q-30. 総務省「事業所・企業統計調査」によると、2004年6月1日現在の民営事業所数は(①)事業所〔シェア0.82%〕で、前回調査(2001年10月1日現在)に比べ(②)であった。従業者規模別では「1~19人」が全体の(③)%を占めている。「300~499人」は40事業所、「500~999人」は17事業所、「1,000人以上」は6事業所となっている。

- ①ア)37,171 イ)47,171 ウ)57,171 エ)67,171
 ②ア)2.6%増 イ)1.6%減
 ウ)3.6%減 エ)6.6%減
 ③ア)86.2 イ)92.2 ウ)95.2 エ)98.2

Q-31. 2004年の民営事業所の産業別構成割合は、(A)が30.6%を占めて最も多く、次いで(B)18.9%、(C)12.8%、(D)11.5%と続き、これら4業種で全体の約7割を超える。

	ア	イ	ウ	エ	オ
製造業	C	A	C	D	C
卸売・小売業	A	C	A	B	B
サービス業	D	B	B	C	A
飲食店・宿泊業	B	D	D	A	D

Q-32. 2004年の民営事業所の従業者数は約(①)千人〔シェア0.75%〕で、2001年に比べ4.8%減少している。産業別構成は、(A)が26.3%を占めて最も多く、次いで(B)21.2%、(C)13.0%で、以下(D)、(E)、建設業と続いている。

- ①ア)293 イ)393 ウ)493 エ)593

②

	ア	イ	ウ	エ	オ
製造業	A	A	B	D	C
卸売・小売業	B	C	A	A	A
サービス業	C	B	C	B	B
医療・福祉	D	E	D	C	E
飲食店・宿泊業	E	D	E	E	D

■Q-33~Q-36の設問は、経済産業省「2005年工業統計速報データ」に基づくものである。

Q-33. 2005年12月末現在の製造業事業所数は()事業所〔シェア1.1%〕で、2003年に比べ9.4%減少〔全国は7.1%減少〕している。
 ア)3,036 イ)5,036 ウ)7,036 エ)9,036

Q-34. 従業者数は75,077人〔シェア0.9%〕で2003年比2.5%減少〔全国は1.4%減少〕している。従業者規模別の製造業事業所数は、100~299人が83事業所、300人以上が()事業所である。

- ア)11 イ)21 ウ)41 エ)51

Q-35. 製造品出荷額等は2兆1,815億円で、シェアは()%、前回比5.0%増加〔全国は7.9%増加〕している。

- ア)0.5 イ)0.7 ウ)1.0 エ)1.2

特集

Q-36. 従業者1人当たり製造品出荷額等は、奈良県が()万円で、滋賀県は4,225万円、京都府は2,869万円、大阪府は2,975万円、兵庫県は3,624万円、和歌山県は5,001万円、三重県は4,765万円となっている。

【参考：全国 3,491万円】

ア)1,506 イ)2,206 ウ)2,906 エ)3,406

Q-37. 経済産業省「2005年(暦年)工場立地動向調査結果」によると、全国の工場立地件数は1,545件〔増加率18.7%〕、立地面積は2,239ha〔前年比660ha増加、増加率41.8%〕であった。また、奈良県の工場立地件数は()件、立地面積は13ha〔シェア0.58%〕であった。

ア)6 イ)11 ウ)17 エ)23

Q-38. 下のグラフは、経済産業省「工業統計表(2004年)」に基づき、各府県の主要工業の関係(製造品出荷額等の構成比)を表したものである。奈良県はどれに該当するか。

Q-39. 右の表は鉱工業生産指数の算出に利用される業種別ウェイトを記載している。空欄に入る業種の組み合わせとして適切なものは次のどれか。

* 鉱工業生産指数の算出に利用されるウェイトは、全体に対する品目や業種の重要度を示すもので、基準時(2000年)の付加価値額の構成比から算出されている。

Q-39. 業種別ウェイト

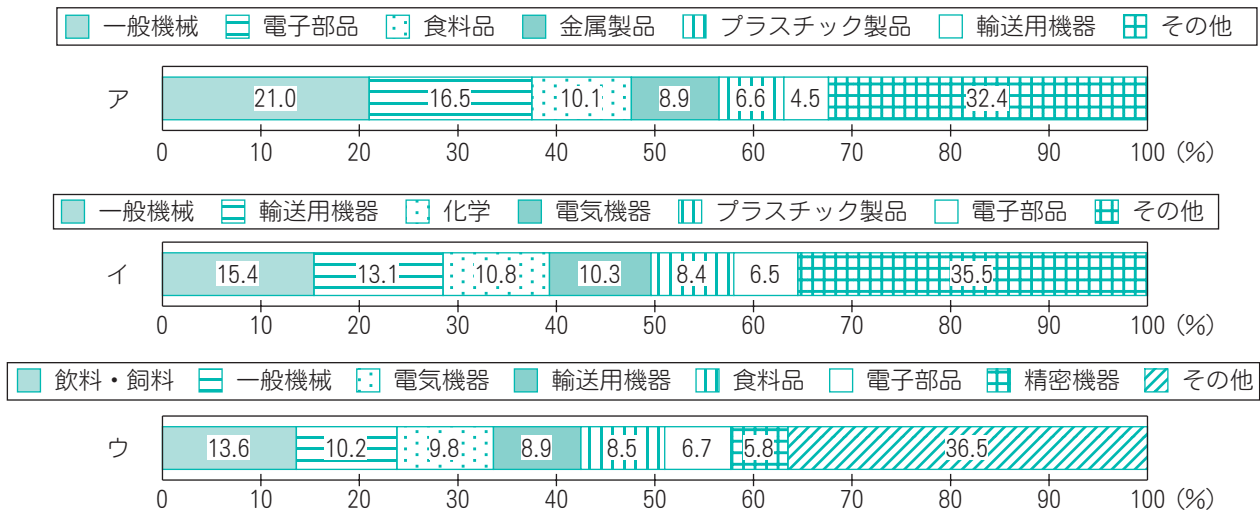
製造工業総合	10000.0
鉄鋼業	99.7
非鉄金属工業	127.8
金属製品工業	860.3
A	1272.1
B	2777.3
輸送機械工業	281.8
窯業・土石製品工業	270.4
化学工業	264.0
C	733.3
パルプ・紙・紙加工品工業	237.6
D	696.0
食料品・たばこ工業	1245.4
その他工業	1134.3
ゴム製品工業	391.5
皮革製品工業	X
家具工業	X
E	326.3
その他製品工業	282.2

*資料：奈良県「奈良県鉱工業指数年報」
*「X」は秘匿数字。

	ア	イ	ウ	エ	オ
繊維工業	C	A	B	D	C
木材・木製品工業	A	C	D	E	E
プラスチック製品工業	D	B	E	C	D
電気機械工業	E	D	A	B	A
一般機械工業	B	E	C	A	B

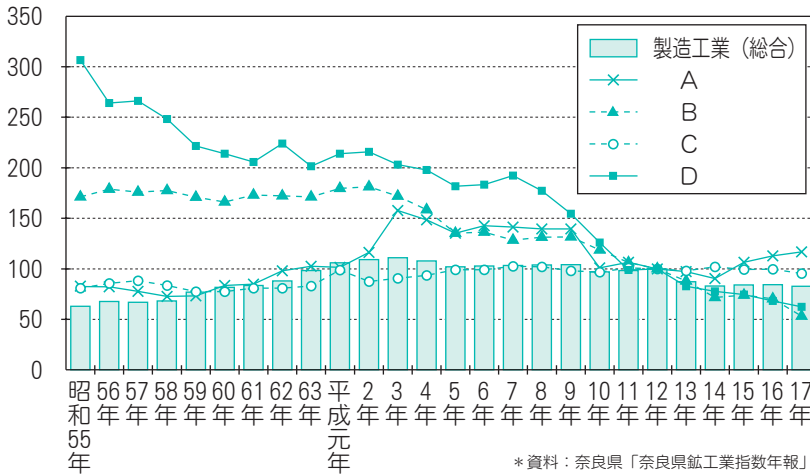
Q-38. 各府県の主要工業の関係(製造品出荷額等の構成比)

*資料：経済産業省「工業統計表(2004年)」



Q-40. 次の図表は業種別鉱工業生産指数をグラフ化したものであるが、各折れ線が表している業種の組み合わせとして適切なものは次のどれか。

奈良県の業種別生産指数（原指数）の推移【H12=100】



	ア	イ	ウ	エ	オ
プラスチック製品工業	C	A	B	D	C
食料品・たばこ産業	A	C	D	B	A
繊維工業	D	B	A	C	B
木材・木製品工業	B	D	C	A	D

Q-41. 経済産業省「経済産業統計」によると、2000年の鉱工業生産指数を100とした場合、2005年の全国は101.3、奈良（ ）、滋賀101.2、京都98.1、大阪88.2、三重132.8となっている。
ア)73.0 イ)83.0 ウ)91.0 エ)97.0

Q-42. 国土交通省「建築動態統計調査」によると、2004年の新設住宅着工戸数は、全国で1,189,049戸であった。一方、奈良県の新設住宅着工戸数は（ ）戸で前年比5.7%増であった。
ア)5,990 イ)7,990 ウ)9,990 エ)11,990

Q-43. (社)日本観光協会「全国観光動向」によると、2003年の観光入込客数は（ ）万人で、全国順位は28位（東京都を除く）となっている。
ア)3,507 イ)3,707 ウ)3,807 エ)3,907

Q-44. 2005年の年間観光入込客数は、東京ディズニーリゾート（TDLとTDSの合算）とUS

Jの2005年度の年間来場者数の合計よりも約（ ）。
ア)240万人少ない イ)120万人少ない
ウ)120万人多い エ)240万人多い

Q-45. 1日当たりの来場者数を多い順に並べ変えた場合、最も適切なものはどれか。

- ①愛・地球博 (2006年5月5日～同9日)
 - ②東京ディズニーリゾート (2005年度の365日間)
 - ③なら燈花会 (2006年8月6～15日；8日は中止)
- ア)①②③ イ)③①②
ウ)②①③ エ)①③②

Q-46. 次の2問は、国土交通省「宿泊旅行統計調査第二次予備調査」に基づいている。

*対象：従業者数10人以上のホテル、旅館及び簡易宿所

①2006年6月～8月の3か月間の延べ宿泊者数（観光目的以外を含む）は、全体が7,760万人泊で奈良県のシェアは（ ）%〔全国46位〕である。

【参考：大阪府4.8%、京都府2.9%】

ア)0.4 イ)0.7 ウ)1.0 エ)1.2

②空欄に入る居住地の組合せで最適なものはどれか。

居住地別延べ宿泊者数

【従業者数100人以上の施設（4か所）】
【2006年6～8月】 (人) (%) (%)

順位	居住地	延べ宿泊者数	シェア	同累計
	全 体	74,529	100.00	100.00
1	A	14,761	19.81	19.81
2	B	12,991	17.43	37.24
3	国 外	7,843	10.52	47.76
4	C	5,698	7.65	55.41
5	D	4,030	5.41	60.81

*資料：国土交通省「宿泊旅行統計調査第二次予備調査」

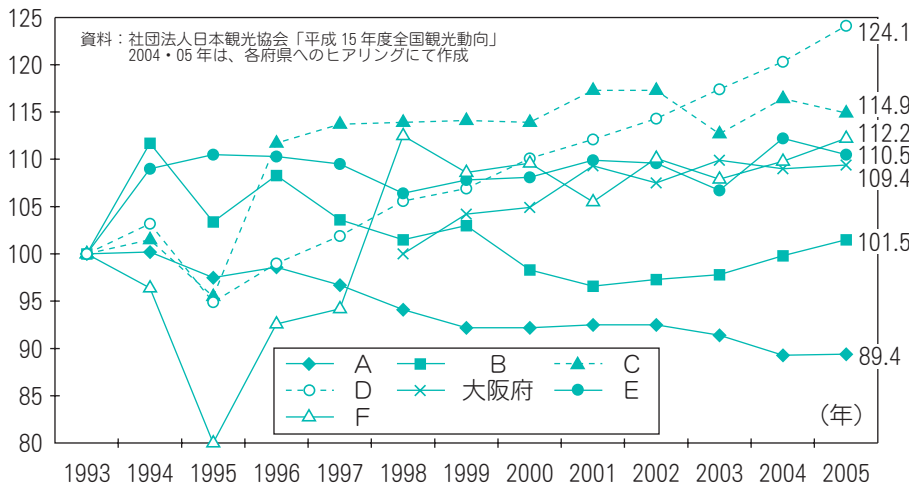
	ア	イ	ウ	エ	オ
大 阪 府	B	A	C	C	A
東 京 都	A	B	A	A	B
奈 良 県	D	D	D	B	C
神 奈 川 県	C	C	B	D	D

特集

Q-47. 次のグラフは、1993年を100として、近畿地方の各府県及び三重県の観光入込客数の推移を表したものである。奈良県はどれに該当するか。

ア) A イ) B ウ) C エ) D オ) E カ) F

府県別観光入込客数の推移【1993年=100】



Q-48. 次の表の空欄に入る地域の組み合わせとして最適なものをどれか。

奈良県内主要地域別の観光入込客数の増減状況

地域名	1988年	2005年	増減数	増減率(%)
A	2,726	667	-2,059	-75.5
B	5,015	3,788	-1,227	-24.5
奈良	16,306	13,050	-3,256	-20.0
C	3,577	1,883	-1,694	-47.4
曾爾	208	900	692	332.7
D	1,210	1,498	288	23.8
大峰山北部	393	764	371	94.4
信貴	1,169	1,143	-26	-2.2
E	1,074	669	-405	-37.7
金剛・葛城	779	767	-12	-1.5
吉野山	719	1,178	459	63.8
矢田	834	577	-257	-30.8

*奈良の1988年・2005年の数値は「月ヶ瀬」を含む。
*資料：奈良県統計協会「奈良県統計年鑑」
奈良県「奈良県観光客動態調査報告書」

	ア	イ	ウ	エ	オ
檀原	B	C	D	E	E
室生・長谷	D	E	B	C	B
斑鳩	A	B	C	A	D
明日香	E	A	E	B	A
生駒	C	D	A	D	C

Q-49. 2003年の観光入込客数の動向について、それぞれのエリアは何月の観光入込客数が最も多いか。最適な組み合わせを選択せよ。

	1年間で最も入込の多い月	1年間に占めるシェア
①全国		15.0%
②奈良県		14.7%
③京都府		13.9%
④滋賀県		13.1%
⑤三重県		14.8%

	ア	イ	ウ	エ	オ
①全国	11	11	8	8	8
②奈良県	11	1	1	11	11
③京都府	11	11	11	11	11
④滋賀県	11	11	8	8	11
⑤三重県	11	8	8	8	8

Q-50. 奈良市「入込観光客数調査報告」によると、2005年の奈良市の修学

旅行（宿泊のみ）都道府県別入込数は、最大は（①）の17,937人で、2番目に多いのは（②）の10,400人である。

- ①ア)長野県 イ)広島県
ウ)東京都 エ)愛知県
②ア)東京都 イ)岐阜県
ウ)広島県 エ)愛知県

Q-51. 2005年の修学旅行生は、京都市が1,006千人で前年比0.2%〔約2千人〕の減少であった。また、奈良市は前年比（ ）の808千人であった。

- ア)0.4%減 イ)1.5%減
ウ)4.6%減 エ)8.7%減

Q-52. 経済産業省「2004年商業統計」によると、2004年6月1日現在、人口1万人当たり（総務省「2005年国勢調査」）の小売業年間商品販売額は8,743百万円で全国（ ）位、同売場面積は10,896㎡で全国40位となっている。

- ア)27 イ)32 ウ)39 エ)45

Q-53. 総務省「2000年国勢調査」によると、奈良県を常住地とする15歳以上の就業者数は655,663人〔シェア1.04%〕であるが、他県で就業している人の割合（県外就業率）は、男性が（①）%、女性が（②）%となっている。

- ①ア)47.2 イ)37.2 ウ)29.2 エ)20.2
②ア)40.7 イ)30.7 ウ)20.7 エ)10.7

Q-54. 総務省「2000年国勢調査」によると、15歳以上通学者は105,326人いるが、そのうち（ ）%が大阪府へ、6.9%が京都府へ通学している。

- ア)33.8 イ)23.8 ウ)17.8 エ)12.8

Q-55. 総務省「2000年国勢調査」によると、従業地による（奈良県内の企業に勤めている）15歳以上の就業者数は498,753人であるが、他県で常住している（他県に住み奈良県へ通勤している）人の割合は（ ）%である。

- ア)18.2 イ)14.2 ウ)9.2 エ)4.2

Q-56. 総務省「平成17年度地方公共団体普通会計決算の概要」によると、実質収支赤字団体（普通会計決算）には都道府県で北海道と大阪府の2団体が列挙されている。また、市町村では夕張市や泉佐野市など26団体が列挙されているが、この中に奈良県の市町村は何団体含まれているか。

- ア)2 イ)5 ウ)7 エ)9

●コーヒープレイク（「奈良県の経済100選」の対象外）

C-3. 平等院（宇治市）、三井寺（大津市）と共に日本三名鐘にかぞえられている東大寺の梵鐘（高さ3.8m）の重さは約何トンか？
ア)7t イ)15t ウ)21t エ)26t

C-4. 東大寺の大仏は、現在は何代目か？

C-5. 奈良県内の西国三十三ヶ所の全札所を列挙せよ。

Q-57. 次表は総務省自治税務局「平成18年度地方税に関する参考計数資料」に基づき作成している。

①奈良県はどれに該当するか。

- ア) イ) ウ) エ)

②に入る適切な数値はどれか。

- ア)35.2 イ)48.2 ウ)58.2 エ)65.2

個人住民税・法人二税等の人口1人当たり税収額の指数

（全国平均を100とした場合、2004年度）

①	地方税収計	個人住民税		法人二税
大阪府	110.9	100.7	滋賀県	94.2
ア	94.5	89.9	京都府	75.5
イ	75.5	103.9	大阪府	129.0
兵庫県	93.2	101.9	兵庫県	69.3
ウ	75.3	71.1	奈良県	②
エ	92.0	97.2	和歌山県	60.7

*個人住民税の税収額は、個人道府県民税及び個人市町村民税の合計額であり、配当割及び株式等譲渡所得割を含む。
*法人二税の税収額は、法人道府県民税、法人市町村民税及び法人事業税の合計額。

*資料：総務省ホームページ

3 暮らし関連 (20問×1点)

Q-58. 2002年10月1日現在、県内の公民館数は439館で、全国シェアは（ ）%である。

【参考：滋賀県 1.04%】

- ア)0.75 イ)1.25 ウ)1.95 エ)2.45

Q-59. 2002年10月1日現在、県内の体育館数は124施設で、全国シェアは（ ）%である。

- ア)0.74 イ)1.24 ウ)1.94 エ)2.54

Q-60. 2006年6月末現在、100人当たりの携帯電話加入件数は、全国は72.7件、奈良県は（ ）件、大阪府は82.7、和歌山県は65.4件となっている。

- ア)59.9 イ)69.9 ウ)79.9 エ)85.9

Q-61. 日本放送協会編「放送受信契約数統計要覧」によると、2004年会計年度末現在、1000世帯あたりテレビ受信契約数は（ ）件である。

【参考：新潟県960件、大阪府653件、滋賀県790件】

- ア)672 イ)722 ウ)822 エ)922

特集

- Q-62. 2005年の国勢調査票の未提出世帯の割合は、全国で4.4%となっているが、奈良県は()%、滋賀県3.5%、京都府6.1%、大阪府5.4%となっている。ちなみに未提出世帯割合の最高は、東京都の13.3%である。
ア)1.8 イ)3.8 ウ)5.8 エ)7.8
- Q-63. 社団法人日本新聞協会の調べによると、2006年10月現在、新聞頒布部数(日刊新聞の普及度)は1世帯当たり()部で、全国平均1.02部、大阪府1.08部、京都府1.08部、滋賀県1.15部、鹿児島県0.69部となっている。
ア)1.09 イ)1.18 ウ)1.38 エ)1.68
- Q-64. 2002年の書籍・雑誌の小売業年間販売額は14,728百万円であり、全国シェアは()%である。
ア)0.33 イ)0.63 ウ)0.93 エ)1.33
- Q-65. 2005年の100世帯当たりの乗用車保有台数は()台で、全国平均113.3台、福井県177.9台、滋賀県150.5台、京都府93.6台、大阪府74.1台となっている。
ア)117.8 イ)137.8 ウ)157.8 エ)167.8
- Q-66. 2004年10月末現在で、1000世帯当たりの主要耐久消費財の所有状況をみると、ピアノが(①)台で全国2位、ビデオカメラ(デジタルを含む)が527台で全国(②)位となっている。食器洗い機は301台で1位、液晶テレビは107台で2位、ルームエアコンは(③)台で7位となっている。また、冷蔵庫(300L以上)は897台、オートバイ・スクーターは382台と、それぞれ2位となっている。
①ア)253 イ)353 ウ)453 エ)543
②ア)1 イ)5 ウ)10 エ)15
③ア)2,019 イ)3,019 ウ)4,019 エ)5,019
- Q-67. 文部科学省「学校基本調査」によると、2006年3月卒業者の高等学校卒業者数は13,122人で、大学等進学率は全国4位である。男女別では、男子が54.4%、女子が()%となっている。
ア)45.7 イ)49.7 ウ)54.7 エ)57.7
- Q-68. 日本観光協会「数字で見る観光」によると、2006年7月現在、観光レクリエーション施設は、キャンプ場が(①) [シェア0.58%]、ゴルフ場が(②) [シェア1.23%]、博物館が52 [シェア1.29%]となっている。
①ア)8 イ)18 ウ)28 エ)38
②ア)22 イ)32 ウ)42 エ)52
- Q-69. 総務省「2000年国勢調査」によると、最終学歴が大学・大学院卒である人口は、2000年度時点で215,667人で、全国シェアは()%となっている。
ア)0.47 イ)0.77 ウ)1.17 エ)1.47
- Q-70. 2004年の日本人出国者数は()人で、全国シェアは1.33%となっている。
ア)104,335 イ)154,335
ウ)224,335 エ)284,335
- Q-71. 2004年度のJR輸送実績は、1日平均乗車人員の総数が(①)人で、前年度比0.8%減少している。JR各駅の中で1日平均乗車人員が最も多い駅は(②) [27,345人]である。
①ア)97,911 イ)147,911
ウ)197,911 エ)247,911
②ア)王寺 イ)奈良 ウ)郡山 エ)大和小泉
- Q-72. 2004年度の近鉄輸送実績は、1日平均乗車人員(①)人で、前年度比(②)%減少している。近鉄各駅の中で1日平均乗車人員が最も多い駅は学園前 [37,327人]で、次いで近鉄奈良、生駒、大和西大寺、大和八木と続いている。
①ア)203,035 イ)303,035
ウ)403,035 エ)553,035
②ア)4.1 イ)2.1 ウ)1.1 エ)0.3

番外編 奈良県の観光資源

【本コーナーは、「奈良県の経済100選」の対象外です】

* 解答は次頁に記載しています。

Q-73. 端麗な円錐形の山容から「近畿のmatterホルン」と言われ、冬季の霧氷から春のツツジ、石楠花など、四季を通じて登山客に根強い人気がある、標高 1,249m の山は？

Q-74. 春日大社の万燈籠は、参道の両側に立つ石燈籠が約 (①) 基、朱塗りの社殿の回廊に並ぶ釣燈籠が約 (②) 基と言われる。

- ①ア) 2000 イ) 3000 ウ) 5000 エ) 6000
②ア) 1000 イ) 2000 ウ) 3000 エ) 4000

Q-75. 一般的な名称と別名・旧称等の関係で誤っているものはどれか？

- ア) 法輪寺 : 三井寺
イ) 石光寺 : 織寺
ウ) 壺阪寺 : 南法華寺
エ) 大安寺 : 南大寺

Q-76. 平城京のメインストリートは朱雀大路で、道幅は約 (①) m あった。南下すると、藤原京と結ぶ古道 (②) に通じていた。

- ①ア) 54 イ) 74 ウ) 94 エ) 1240
②ア) 上ツ道 イ) 中ツ道
ウ) 下ツ道 エ) 山の辺の道

Q-77. 仏像を像高の高いものから並べた順番として正しいものはどれか？

- ①興福寺国宝館の千手観音菩薩立像
②興福寺国宝館の阿修羅像
③金峯山寺本堂・蔵王堂の金剛蔵王権現
④唐招提寺金堂の千手観音立像
⑤長谷寺本尊の十一面観世音菩薩立像
ア) ③⑤④①② イ) ⑤③④①②
ウ) ③⑤①②④ エ) ③①④⑤②

Q-78. 雲海の村として知られ、明治維新を迎えるまで紀州藩に属し、明治時代の合併の際に各村の名称の頭文字をつけたところは？

Q-79. 高松塚古墳は西壁女子群像が有名であるが、壁画の人物群像は全部で何人描かれているか？

- ア) 4人 イ) 10人 ウ) 16人 エ) 22人

Q-80. エジプトのスフィンクス、レオナルド・ダ・ヴィンチ作モナリザと並ぶ世界三大微笑像の一つにあげられている仏像は？

- ア) 岡寺本尊の如意輪観音像
イ) 秋篠寺の伎芸天立像
ウ) 東大寺法華堂本尊の不空絹索観音像
エ) 中宮寺本尊の弥勒菩薩半跏思惟像

Q-81. キトラ古墳は、天井の星宿図が現存する世界最古のものと推定されているが、星座部分には何が貼り付けられているか？

Q-82. 社寺等の名称と植物との関係で誤っているものはどれか？

- ア) 松尾寺 : 薔薇
イ) 室生寺 : 石楠花
ウ) 海龍王寺 : 躑躅
エ) 高鴨神社 : 日本サクラソウ

Q-83. 日本の滝百選にも名を連ね、七段に分かれて落差が約 100m ある滝は？

- ア) 双門の滝
イ) 不動七重の滝
ウ) 笹の滝
エ) 中の滝

Q-84. 興福寺五重塔は、過去 (①) 回の焼失・再建を経て、1426年頃に再建されたもので、現在、日本で (②) 番目に高い塔である。

- ①ア) 1 イ) 3 ウ) 5 エ) 7
②ア) 1 イ) 2 ウ) 3 エ) 5

特集

Q-85. 正倉院の宝物は、約（ ）点にも及ぶ。

ア)6000 イ)9000 ウ)14000 エ)20000

Q-86. 日本初の四層の櫓やぐらを持つ城として知られており、織田信長が安土城を造る際に真似をしたと言われている城は？

ア)高取城 イ)郡山城 ウ)筒井城 エ)多聞城

Q-87. 祭事と社寺等の名称との関係で誤っているものはどれか？

ア)蓮華会・蛙飛び : 金峯山寺
イ)だだおし法要 : 興福寺
ウ)三枝祭(ゆり祭) : 率川神社
エ)光仁会 : 大安寺

Q-88. 春の牡丹で有名な長谷寺は、仁王門から本堂までゆるやかな約（①）段の階段が続く登廊がある。また、女人高野として知られる室生寺の石段は、仁王門から御影堂のある奥の院まで約（②）段ある。

①ア)200 イ)300 ウ)400 エ)500
②ア)500 イ)600 ウ)700 エ)800

Q-89. 吉野山の谷や尾根を埋める桜の木は（①）万本ともいわれ、種類は約（②）種とされている。

①ア)2 イ)3 ウ)5 エ)7
②ア)100 イ)200 ウ)300 エ)400

Q-90. 東大寺の大仏(盧舎那仏坐像)の像高(座高)は約（①）mあり、頭の螺髪らほつ(右巻きらほつの螺旋状の頭髪)は、悟りを開いた優れた人の特徴の一つで、直径約（②）cmある。

ア)15 イ)20 ウ)25 エ)30
ア)12 イ)22 ウ)32 エ)42

Q-91. 松尾芭蕉の「若葉おんめして御目のしずくめく霽はばや」は、誰の像について歌ったものか？

【解答用紙送付要領：締切 2007 年 4 月末】

解答用紙に法人名・氏名をご記入のうえ、返信先を明記した返信用封筒(80円切手を貼付)を同封して郵送して下さい。

解答用紙を複数枚送付される場合は、解答用紙の枚数分の返信用封筒をご用意下さい。

*受け付けた解答用紙は、4月10日以降に順次返送します。

●送付先：〒631-0801 奈良市左京 6-5-4
財団法人南都経済センター
「奈良県の経済100選」係

●お問合せ：TEL 0742-72-0711

【番外編の解答】

Q-73. 高見山

Q-74. ①ア(約2000基)、②ア(約1000基)

Q-75. イ(正しい名称は「染寺」)

Q-76. ①イ(約74m)、②ウ(下ツ道)

Q-77. イ(⑤③④①②)

*最大は⑤「長谷寺本尊の十一面観世音菩薩立像(10m18cm)、最小は②「興福寺国宝館(食堂跡)の阿修羅像(1m53cm)」

Q-78. 野迫川村 Q-79. ウ(16人)

Q-80. エ(中宮寺本尊の弥勒菩薩半跏思惟像)

Q-81. 金箔

Q-82. ウ(正しい植物は「雪柳」)

Q-83. イ(不動七重の滝)

Q-84. ①ウ(5回)、②イ(2番目)

Q-85. イ(約9000点)

Q-86. エ(多聞城)

Q-87. イ(正しい社寺は「長谷寺」)

Q-88. ①ウ(約400段)、②ウ(約700段)

Q-89. ①イ(3万本)、②イ(約200種)

Q-90. ①ア(約15m)、②イ(約22cm)

Q-91. 唐招提寺御影堂の鑑真和上像(国宝)

【コーヒーブレイクの解答】

C-1. 谷瀬の吊り橋(高さ54m)

*興福寺五重塔の高さは50.1m

C-2. 約1200頭 C-3. エ(約26t)

C-4. 三代目

C-5. 壺阪寺、長谷寺、岡寺、興福寺南円堂

(問題作成：島田清彦)

制限時間
90分

「奈良県の経済100選」解答用紙

点

*適宜、コピーして利用してください。

法人名

氏名

Q-1		Q-17①		Q-32②		Q-54	
Q-2		Q-17②		Q-33		Q-55	
Q-3①		Q-18①		Q-34		Q-56	
Q-3②		Q-18②		Q-35		Q-57①	
Q-3③		Q-19		Q-36		Q-57②	
Q-4		Q-20		Q-37		Q-58	
Q-5		Q-21		Q-38		Q-59	
Q-6①		Q-22		Q-39		Q-60	
Q-6②		Q-23①		Q-40		Q-61	
Q-7①		Q-23②		Q-41		Q-62	
Q-7②		Q-24①		Q-42		Q-63	
Q-8①		Q-24②		Q-43		Q-64	
Q-8②		Q-25①		Q-44		Q-65	
Q-8③		Q-25②		Q-45		Q-66①	
Q-9①		Q-26		Q-46①		Q-66②	
Q-9②		Q-27①		Q-46②		Q-66③	
Q-10		Q-27②		Q-47		Q-67	
Q-11①		Q-28①		Q-48		Q-68①	
Q-11②		Q-28②		Q-49		Q-68②	
Q-12		Q-29		Q-50①		Q-69	
Q-13		Q-30①		Q-50②		Q-70	
Q-14①		Q-30②		Q-51		Q-71①	
Q-14②		Q-30③		Q-52		Q-71②	
Q-15		Q-31		Q-53①		Q-72①	
Q-16		Q-32①		Q-53②		Q-72②	